



SEIKLUS- ORIENTEERUMINE



ÜLESANNETE VIHIK

Osalevad Haljala, Kadrina, Rakvere, Väike-Maarja, Tapa, Vinni ja Viru-Nigula vald ning Rakvere linn

Koordineerib Lääne-Viru Omavalitsuste Liit

2018



SEIKLUS- ORIENTEERUMINE

ÜLESANNETE VIHIK

Osalevad Haljala, Kadrina, Rakvere, Väike-Maarja,
Tapa, Vinni ja Viru-Nigula vald ning Rakvere linn

Koordineerib Lääne-Viru Omavalitsuste Liit



Üldinfo

**29. september kuni 21. oktoober toimub
Lääne-Viru Omavalitsuste Liidu eestvedamisel ja kohalike omavalitsuste
ning Lääne-Viru Tervisenõukoguga koostöös**

Lääne-Virumaa seiklusorienteerumine.

Osalevad kõik kaheksa omavalitsust.



Seiklusliikumise eesmärk on tunda rõõmu vabas õhus liikumisest.

Seiklusorienteerumise põhimõte on väga lihtne. Saad valida endale sobiva raja, tempo, liikumisvahendi (osa radu läbitavad jalgrattaga, tõukerattaga jms), kaaslased ja päeva, millal liikuda. Saad rajale kaasa kaardid koos küsimuste ning lisainfoga. Vastused küsimustele leiad orienteerumispunkti kohapeal (märgistatud oranži-valge tähisega, kohapeal komposter lehe märgistamiseks).

Kaardid ja muu vajaliku saad ise välja printida või võtta kindlatest kohtadest. Info leitav kohalike omavalitsuste kodulehtedelt, www.virol.ee lehelt või Facebookis Lääne-Viru seiklusorienteerumine.

Täidetud (ka osaliselt) küsimuste-vastuste lehed tagasta loosis osalemiseks üks-kõik millisesse vihikus välja toodud punkti (pood, spordikeskus, vald jms).

Lisainfo: Kaidy Aljama, tel 524 1280

**27. oktoobril kell 11 toimub lõpuorienteerumine
ning auhinnaloos kõigi osalejate vahel.**

Kogunemine kell 10.30 Rakvere spordikeskuse ees (Kastani pst 12, Rakvere).
Lisainfo: Toivo Murakas, tel 5348 9464

Kaanefoto: Vaade idasse Emumäe vaatetornist
Kaanefoto autor: Aleksander Kaasik
Fotod: Ain Liiva, Aleksander Kaasik

Haljala vald

ÜLDINFO

Mõlemad rajad on läbitavad lapsevankriga.

Haljala raja pikkus on 3,5 km. Läbimiseks kulub umbes tund aega.

Haljalas saab küsimuste-vastuste vihikuid võimlast (Rakvere mnt 10, Haljala)


- E-N 15.00-21.00
- R 15.00-22.00
- L 10.00-14.00

Võsu rada on võimalik läbida kahte moodi.

- 1 variant: Läbides kõik punktid on raja pikkus umbes 6 km ja aega kulub 1,5 tundi.
- 2 variant: Jättes vahele punktid 4 ja 5 on raja pikkus umbes 4 km ja läbimise aeg 1 tund.

Võsul saab küsimusi spordihoonest (Tõusu 4, Võsu)

- E,R 10.00-21.00
- T,K,N 13.00-21.00
- L,P 12.00-19.00



Lisainfo:
Marco Aitman, tel 5818 2475



Haljala vald / Võsu rada



VASTAJA INFO

Osaleja nimi

Kontakttelefon

.....

Elukoht (omavalitsuse täpsusega)

.....

KÜSIMUSED

1. Mitu pinki on Võsu staadionil?

.....

2. Mis on selle mälestuskivi esimesed 2 sõna?

.....

3. Millega keelab liiklusmärk Jõe tänavale sõita?

.....

4. Mis värvi on silla käsipuu?

.....

5. Mis on Sooserva 4 maja nimi?

.....

6. Mitu kilomeetrit näitab viidasilt Võsule?

.....

7. Millises mõõtkavas on tehtud Võsu kaart?

.....

8. Kelle nime kannab seal olev pink?

.....

9. Kellele on pühendatud seal olev mälestusmärk?

.....

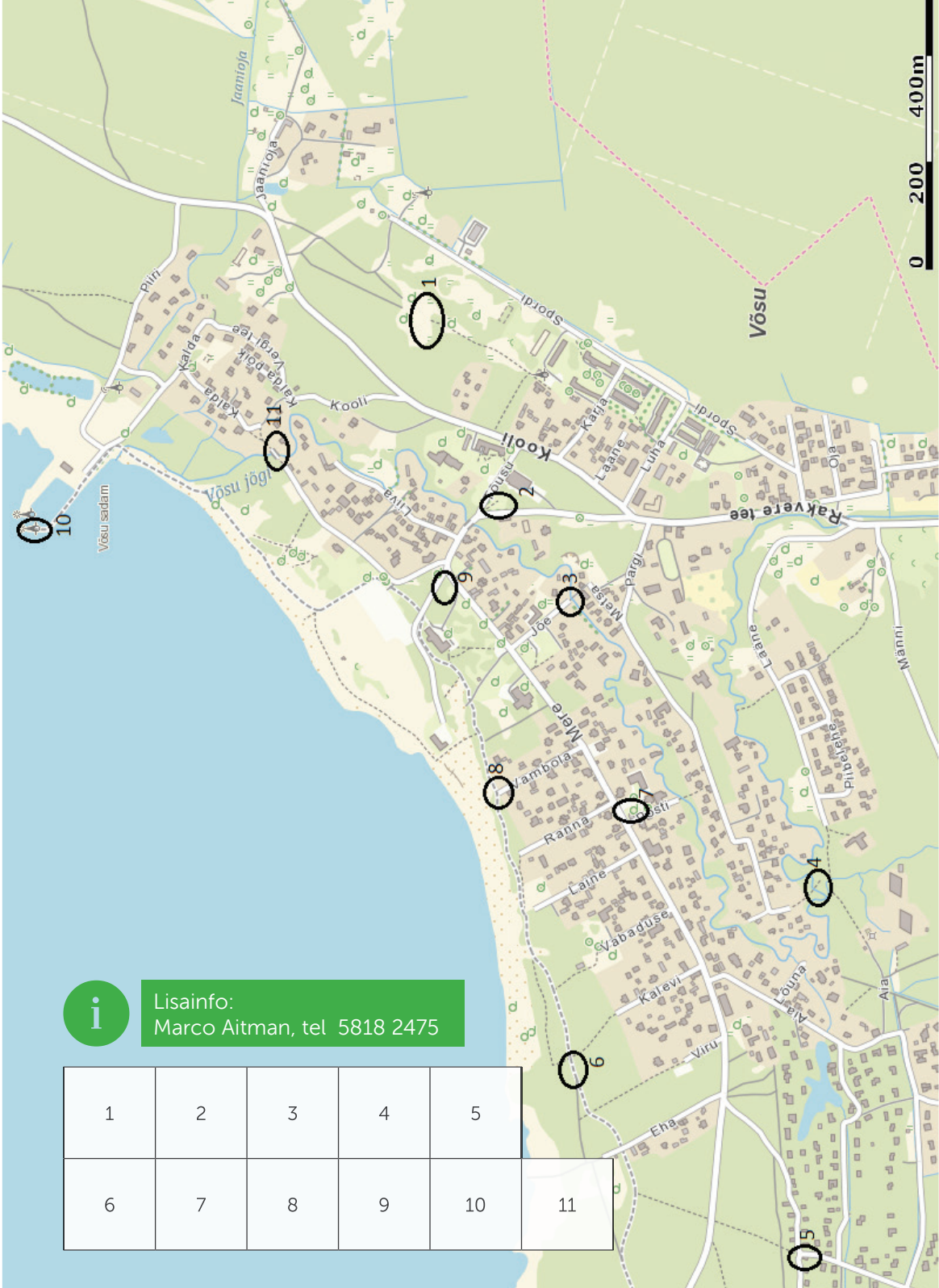
10. Millisesse Soome sadamasse juhatab sealne viit?

.....

11. Mis materjalist on tehtud silla käetugi?

.....





Lisainfo:
 Marco Aitman, tel 5818 2475

1	2	3	4	5	
6	7	8	9	10	11

Haljala vald / Haljala rada



VASTAJA INFO

Osaleja nimi

Kontakttelefon

.....

Elukoht (omavalitsuse täpsusega)

.....

KÜSIMUSED

1. Mitu betoonpõhjaga pinki on sellel alal?

.....

2. Mis silt on Võsu mnt 19 aia küljes?

.....

3. Millal avati kivi seal pargis?

.....

4. Mis on siin asuva elektrikapi nimi?

.....

5. Mis värvi tähtedega on kirjutatud maja otsas olev silt?

.....

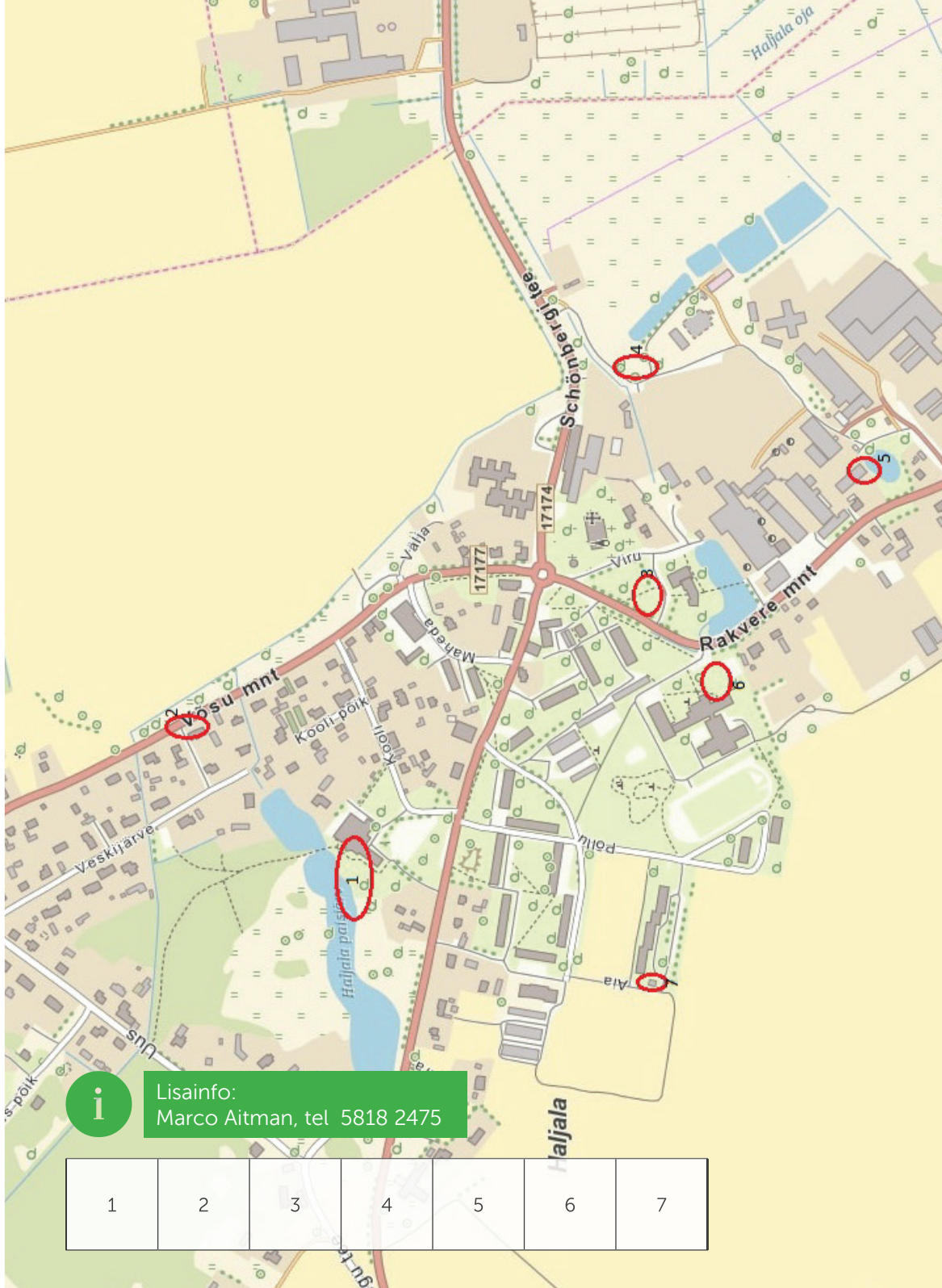
6. Kes istutasid selle puu ja mis aastal?

.....

7. Mis on selle hoone aadress?

.....





Lisainfo:
Marco Aitman, tel 5818 2475

1	2	3	4	5	6	7
---	---	---	---	---	---	---

Kadrina vald



ÜLDINFO

Rada on läbitav jalgratta ja lapsevankriga. Küsimuste-vastuste lehti saab kätte ja saab tagastada Kadrina Spordikeskuse administraatori käest (Rakvere tee 14, Kadrina). Kadrina spordikeskus avatud septembris E-P kell 14-21, oktoobris E-R kell 8-21 ja L-P kell 14-21.



VASTAJA INFO

Osaleja nimi

Kontakttelefon

.....

.....

Elukoht (omavalitsuse täpsusega)

.....

KÜSIMUSED

1. Nimeta vähemalt kolm spordiala, mida saab harrastada Kadrina Spordikeskuses.

.....

2. Mitu südamekujulist kaminapuude hoidikut on maja ees?

.....

3. Nimeta vähemalt üks Eesti Terviseradade toetaja.

.....

4. Mitmele sambale toetub viadukt?

.....

5. Mitu pinki ääristab Paisjärve äärset võrkpalliplatsi?

.....

6. Mitu musta värvi valgustusposti on raudteejaama perroonil?

.....

7. Mis numbriga vana postkast asub Kalda ja Vahtra tänava ristis?

.....

8. Mitu astet on Tuletõrjemäel asuval tulealusel?

.....

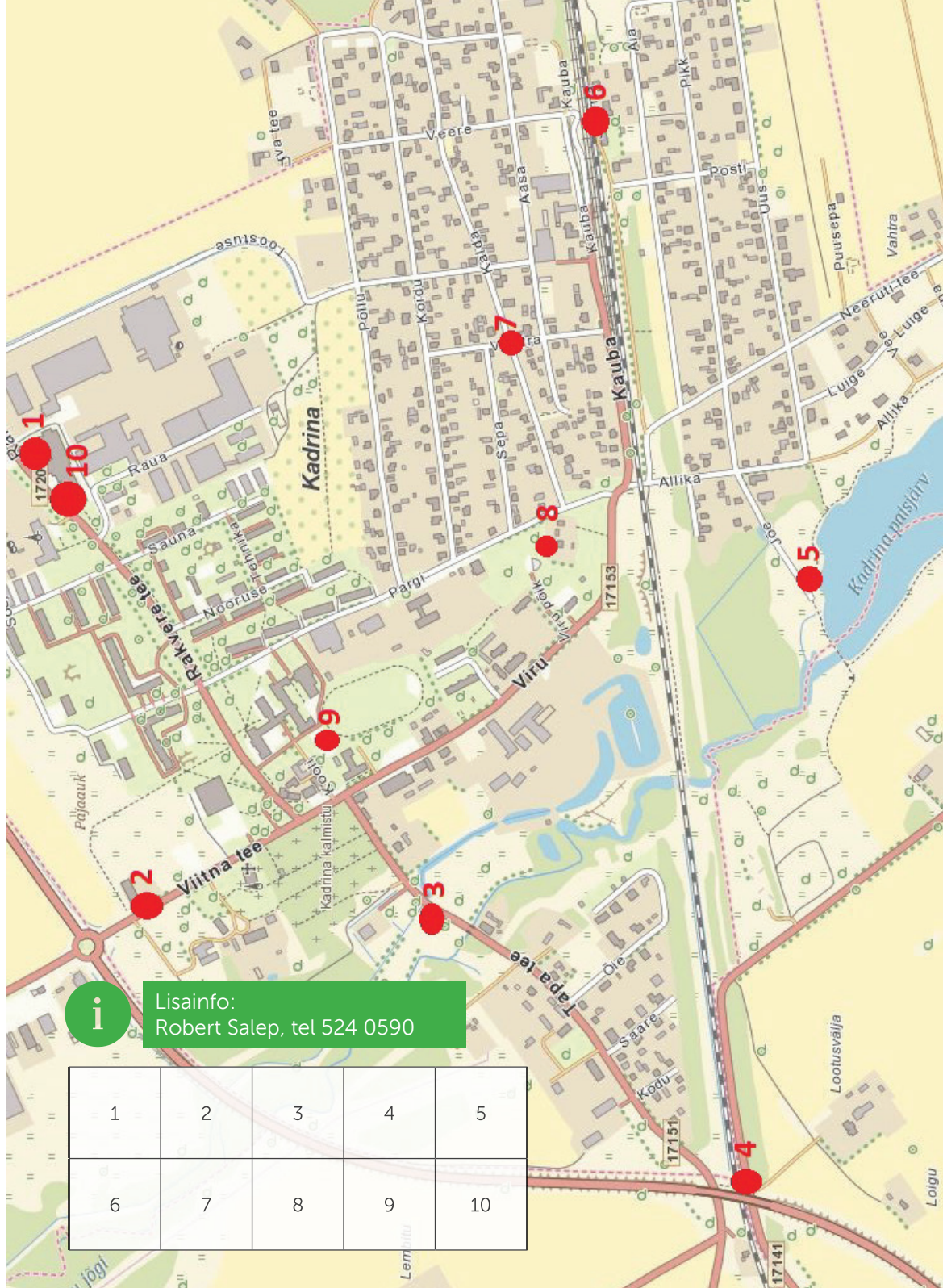
9. Mitu korvpallirõngast on väljakul?

.....

10. Kellele pühendatud pink asub Kadrina Vallamaja kõrval?

.....





Lisainfo:
Robert Salep, tel 524 0590

1	2	3	4	5
6	7	8	9	10

Rakvere linn



ÜLDINFO

Küsimuste-vastuste vihikud saate võtta ja hiljem tagastada Rakveres: Rakvere Spordihall (Kastani 12), E-R 9-22 ja L-P 9-21 või Rakvere Linnavalitsus (Lai 20), E-N 8.00- 16.00 ja R 08.00- 16.00.



VASTAJA INFO

Osaleja nimi

Kontakttelefon

.....

Elukoht (omavalitsuse täpsusega)

.....

KÜSIMUSED

1. Mis puu on Juhan Kunderi monumendi (Tammiku tn ja Pikk tn nurgal) juures olevale pingile kõige lähemal?

.....

2. Mitu tera on mälestussammas "Okaskrooni" kroonil ?

.....

3. Mitu laba on Vallimäe veskil alles?

.....

4. Mitu suurt kivi hoiavad Tarva kuju juures olevaid istepinke?

.....

5. Mis tsitaat on kirjutatud Kreutzwaldi monumendi alla äärde?

.....

6. Mitu kuldset kuplit on Rakvere Jumalaema Sündimise kirikul?

.....

7. Mis aastaarv on skulptuuri „Noormees jalgrattaga muusikat kuulamas“ tagumise rehvi all osas?

.....

8. Mis lipud lehivad Rakvere linnavalitsuse peaukse juures?

.....

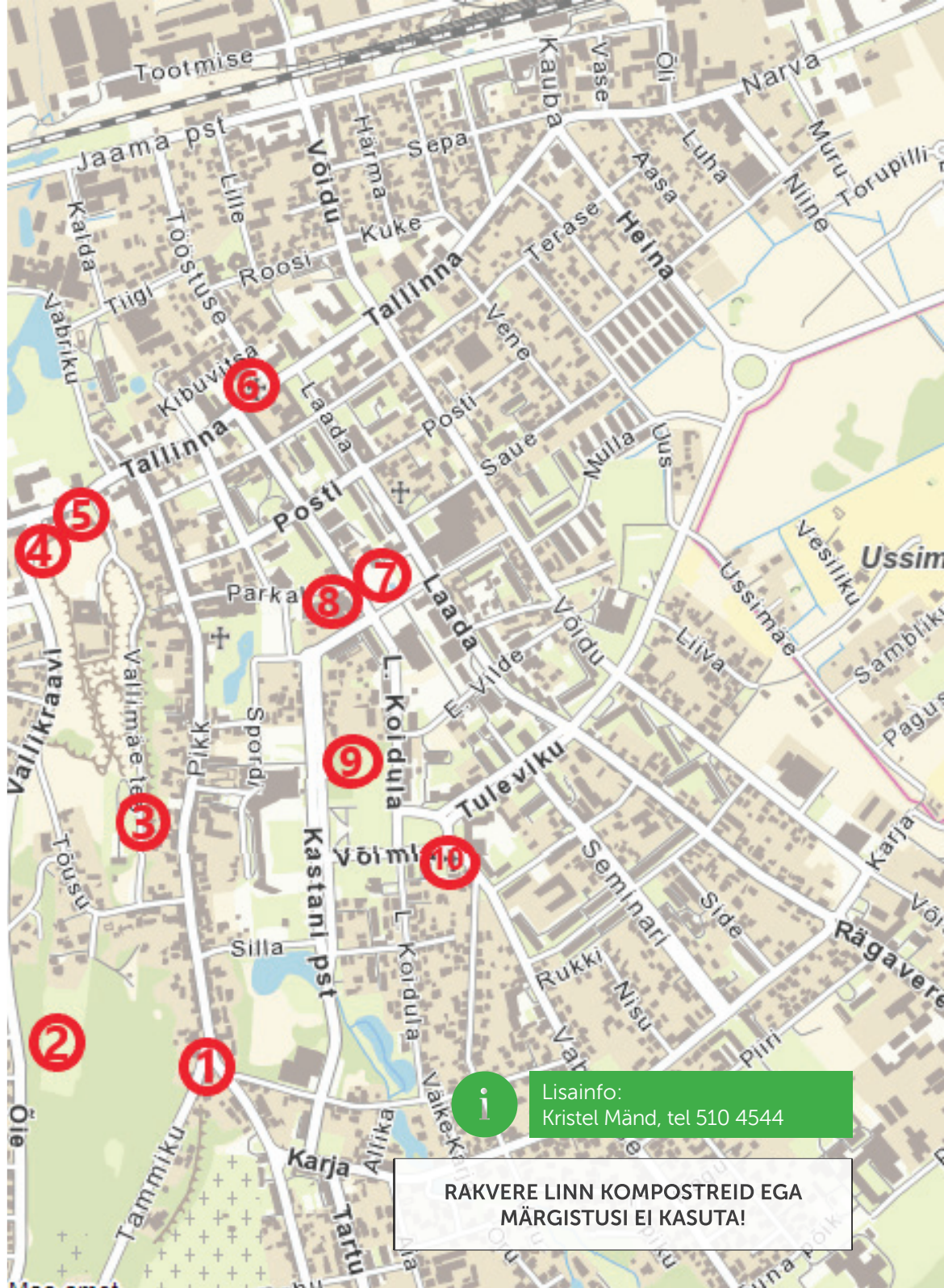
9. Mitu poolkaar akent on Rakvere Pauluse kiriku tornidel kokku?

.....

10. Mis aastal restaureeriti Rakvere Vabadussõja mälestussammas?

.....





Lisainfo:
Kristel Mänd, tel 510 4544

**RAKVERE LINN KOMPOSTREID EGA
MÄRGISTUSI EI KASUTA!**

Rakvere vald / Rägavere rada



ÜLDINFO

Küsimuste-vastuste lehed saab võtta ja hiljem tagastada:

- Sõmeru raamatukogus, Kooli 2, Sõmeru. E-R 10-18
- Veltsi Lasteaed-Algkoolis, Veltsi tee 9, E-R 7-18
- Uhtna raamatukogus, Nooruse 11, E 11-19, T-N 10-17, R 8-15
- Lepna raamatukogus, Energia pst 20, T-N 11-18
- Ubja päevakeskuses, Sõmeru mnt 2, E-R 11-18
- Lasila Päevakeskuses, Tõrukese, E, T, N, R 9-15, K 13-15



VASTAJA INFO

Osaleja nimi

Kontakttelefon

.....

Elukoht (omavalitsuse täpsusega)

.....

KÜSIMUSED

1. Mis mälestusmärk asub paremal pool tee ääres?

.....

2. Mis asub paremal pool tee ääres põllu peal?

.....

3. Mis värvi on Rägavere mõisa hooned?

.....

4. Mis värvi on Rägavere mõisa puidust autovärvad?

.....

5. Mis asub ristmiku peal otse ees põllu ääres?

.....

6. Mis värvi on vasakul pool tee ääres asuva hoone kolm suurt külgmist ust?

.....

7. Mis ehitis asub vasakul pool põllu peal?

.....

8. Mis värvi on Rägavere mõisa jalgvärava küljes olev postkast?

.....

9. Mis materjalist on tehtud vasakul pool teed olev pikk aed?

.....

10. Mis värvi on tee ääres olev teadetetahvel?

.....

Boonusküsimus (B) – mis hoone asub siin?

.....





B

5

6

7

8

4

9

2

1

10

Lisainfo:
Laura Kubjas, tel 5307 0195

1	2	3	4	5
6	7	8	9	10

Rakvere vald / Tõrma rada



ÜLDINFO

Küsimuste-vastuste lehed saab võtta ja hiljem tagastada:

- Sõmeru raamatukogus, Kooli 2, Sõmeru. E-R 10-18
- Veltsi Lasteaed-Algkoolis, Veltsi tee 9, E-R 7-18
- Uhtna raamatukogus, Nooruse 11, E 11-19, T-N 10-17, R 8-15
- Lepna raamatukogus, Energia pst 20, T-N 11-18
- Ubja päevakeskuses, Sõmeru mnt 2, E-R 11-18
- Lasila Päevakeskuses, Tõrukese, E, T, N, R 9-15, K 13-15



VASTAJA INFO

Osaleja nimi

Kontakttelefon

.....

.....

Elukoht (omavalitsuse täpsusega)

.....

KÜSIMUSED

1. Mis ettevõtte asub selles hoones?

.....

2. Mis värvi on vasakut kätt asuvaid hooneid ümbritsev aed?

.....

3. Mis ettevõtte juurde juhatab vasakule viitav teeviit?

.....

4. Mis päeval tühjendatakse maja seina küljes olevat postkasti?

.....

5. Mitu kortermaja on vasakul pool tee ääres?

.....

6. Mis asub paremal pool teed?

.....

7. Mitu kilomeetrit on Sõmerule?

.....

8. Mis värvi on pingi küljes olev prügikast?

.....

9. Millise valla silt asub otse ees?

.....

10. Mis on kirjas posti küljes oleval kollasel sildil?

.....

Boonusküsimus (B) – mis numbrit kannab suusahüppemäe tipus olev augustaja?

.....





Lisainfo:
Laura Kubjas, tel 5307 0195

1	2	3	4	5
6	7	8	9	10


B

Väike-Maarja vald / Väike-Maarja rada



ÜLDINFO

Rada paikneb Väike-Maarja alevikus. Linnulennult on rada 4 km pikk. Hea läbida erinevate ratastega ja jalgsi, sobib ka lapsevankritega liikujatele. Infomaterjalid saab kätte Väike-Maarja spordihoonest, Pikk 1, E-R 13.00-21.00, L, P 12.00-18.00.



VASTAJA INFO

Osaleja nimi

Kontakttelefon

.....

.....

Elukoht (omavalitsuse täpsusega)

.....

KÜSIMUSED

1. Loetle kokku, mitu Wiedemanni keeleauhinnaga naislaureaati on istutanud omanimelise tamme?

.....

2. Mis otstarvet täidab see väike majake?

.....

3. Üksest vasakule on midagi kirjutatud?

.....

4. Mis on isaahvil peas?

.....

5. Mitu värvilist klotsi on mänguväljaku ronimisseinal?

.....

6. Mitu üheukselist kuuriboksi on õues?

.....

7. Lurich seisab maakeral, kus on kirjas tähtsaimad aastad ja kohad tema elus, mis aastaarv on linna Reval ees?

.....

8. Kellele pühendatud pink?

.....

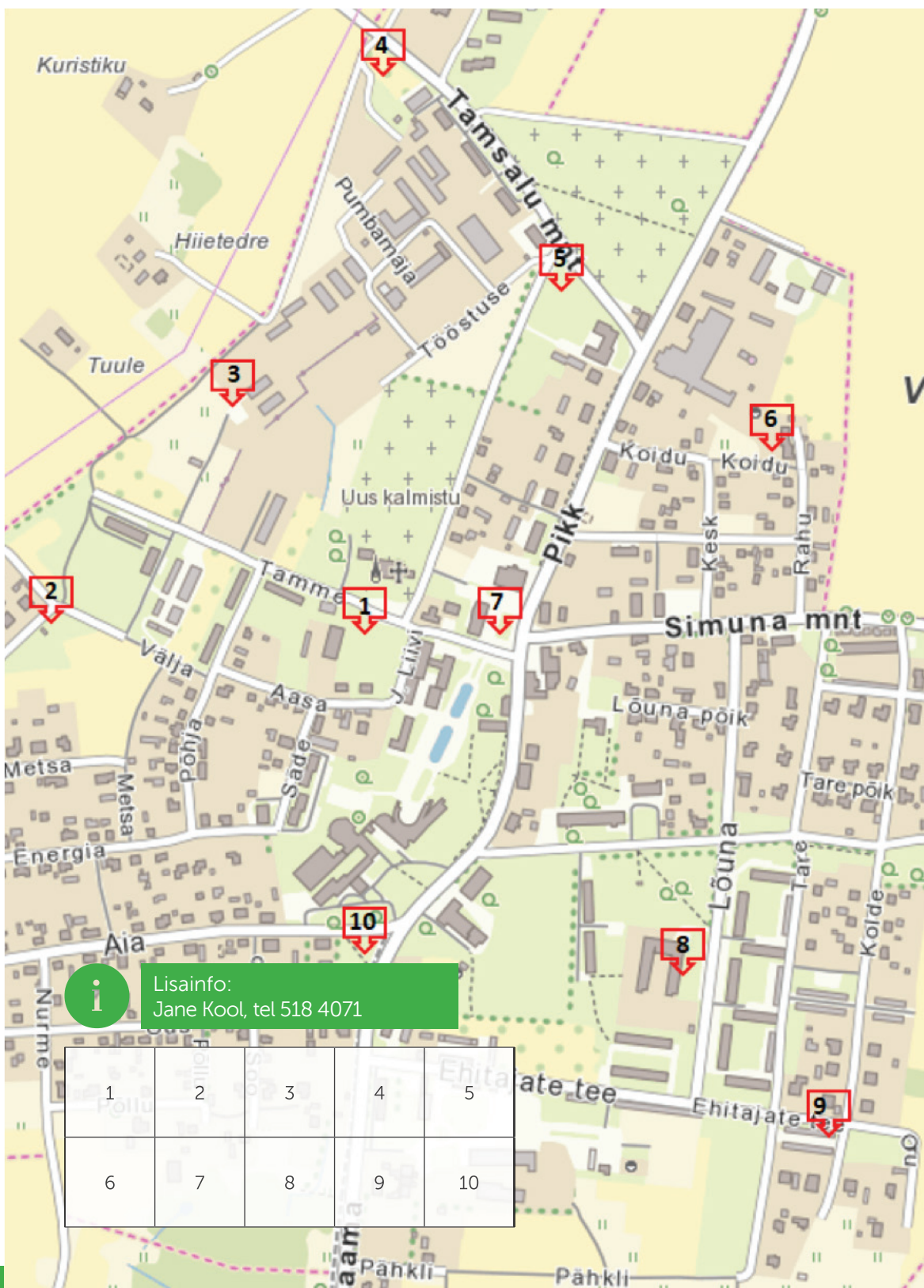
9. Mis puud kasvavad garaaži seina ääres, tänavapoolsel küljel

.....

10. Maja, mis aastal ehitatud? Infotahvel seinal.

.....





Lisainfo:
Jane Kool, tel 518 4071


1	2	3	4	5
6	7	8	9	10

Väike-Maarja vald / Rakke rada



ÜLDINFO

Rakke rada on kogupererada, seega läbitav ka beebivankritega. Spetsiaalseid spordijalatsid vaja ei ole. Rajakaardid saab kätte Rakvere-Tartu maantee ääres asuvast Kroonungi tanklast, Mäe 14, Rakke, E-P 9.00-20.00.



VASTAJA INFO

Osaleja nimi

Kontakttelefon

.....

Elukoht (omavalitsuse täpsusega)

.....

KÜSIMUSED

1. Rakke Kooli direktor on olnud: a) Juhan Höövel, b) Juhan Haamer, c) Juhan Kiiver?

.....

2. Mitu suurt ornamenti (ruutu) on Ülesoo tänava garaaži fassadil?

.....

3. Adolfil ja Hildal oli (mitu last) ja nende kolmanda lapse nimi oli?

.....

4. Mis aastal on ehitatud Rakke lastead (sind/teid aitab korsten)?

.....

5. Kellamäe kivi ümbermõõt on (palun anna vastus sentimeetrites)?

6. Mitu garaaži ja mis värvi ustega on kontrollpunktis asuvas suures garaažihoones kokku?

.....

7. Ernst Birnbaum elas aastatel ja tegeles

.....?

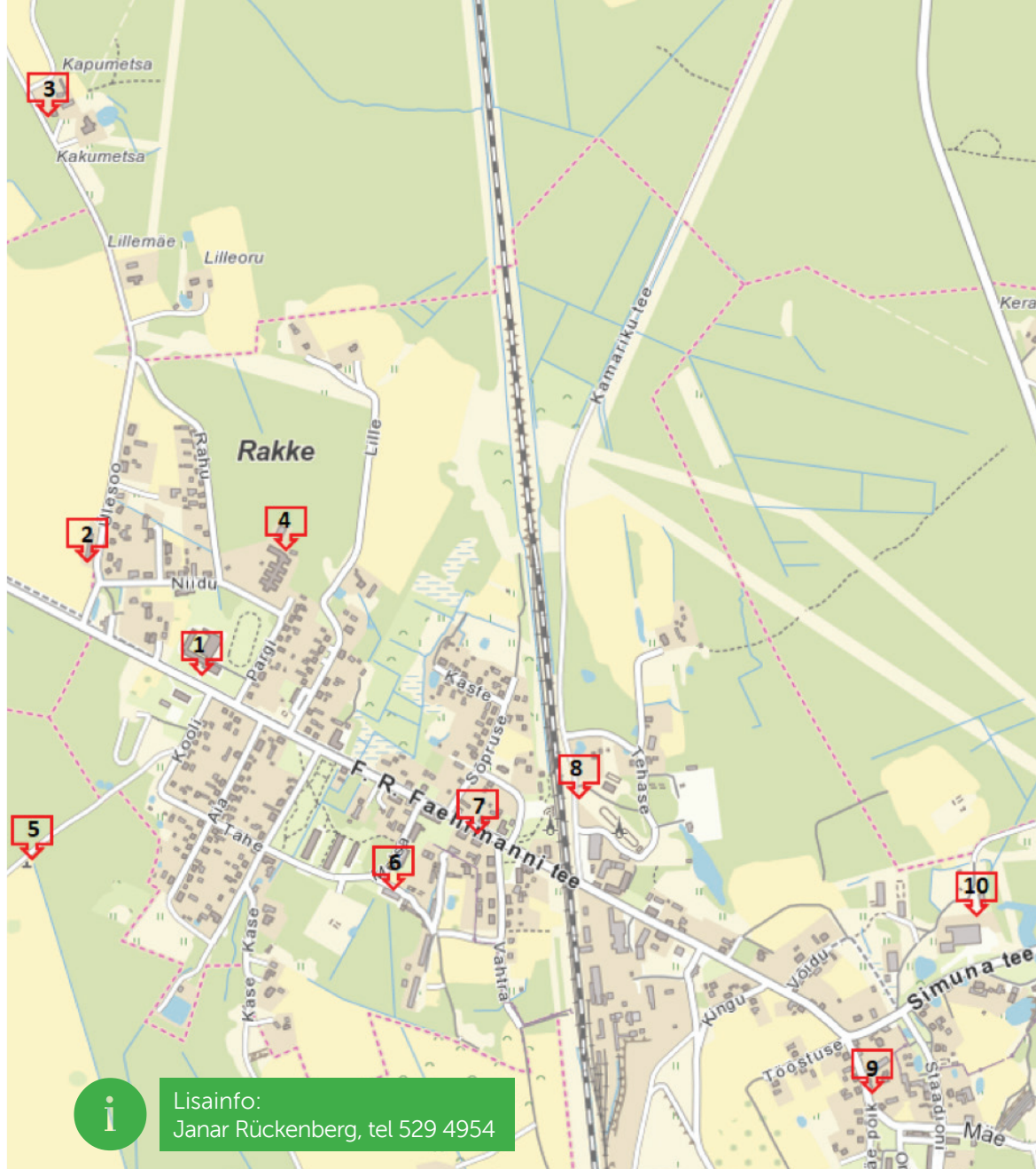
8. Seisan vana punase maja juures, mul on käes üks õun, aga sellel majal on korstnaid täpselt kolm korda rohkem. Mitu korstnat on vanal punasel majal?

.....

9. Mis aastal alustati „Kevade“ kirjutamist?

10. „Tikkri“ pubisse ei saa ratastooliga siseneda, kuna seal puudub kaldtee! Kas väide on õige või vale?





1	2	3	4	5
6	7	8	9	10

Tapa vald

ÜLDINFO



Tamsalu seiklusliikumise rada

Ca 4 km pikk, huvitav avastamisretk, peamiselt asfaltkattega teed, kuid on ka kruusa, teede ääres on valdavalt ka valgustatud kõnniteed.

Lastekäruaga läbitav. Hinnanguline liikumisaeg keskmise tempoga 55 min, rahulikumas tempos, nt koos lastekäruaga, lisandub ca + 15-20 minutit.

Liikumiseks soovitame pehmemaid jalanõusid vastavalt ilmastikule. Rajapunktide märgistus on paigutatud radade vahetusse lähedusse.

Tamsalu Spordikompleks, Tehnika 2a, Tamsalu linn
E-R 10:00-21:00, L-P 13:00-18:00

Tamsalu Raamatukogu, Sõpruse 3, Tamsalu linn
E,T,N,R 11:00-18:00, K 09:00-16:00, L ja P suletud

Tapa seiklusliikumise rada

Ca 3 km pikk, mõnus õhtune jalutuskäik kesklinnas, asfaltkattega teed, teede ääres on valdavalt ka valgustatud kõnniteed.

Lastekäruaga läbitav. Hinnanguline liikumisaeg keskmise tempoga 40 min, rahulikumas tempos, nt koos lastekäruaga, lisandub ca + 15-20 minutit.

Liikumiseks soovitame pehmemaid jalanõusid vastavalt ilmastikule. Rajapunktide märgistus on paigutatud radade vahetusse lähedusse.

Tapa Spordikeskus, Pargi 12, Tapa linn
E-R 08:00-22:00, L 11:00-19:00, P 12:00-20:00

Tapa Linnaraamatukogu, Kooli 6, Tapa linn
E-R 11:00-18:00, L 10:00-15:00, P suletud



Lisainfo:
Indrek Jurtšenko,
tel 322 9659, 529 0785



Tapa vald / Tapa rada



VASTAJA INFO

Osaleja nimi

Kontakttelefon

.....

Elukoht (omavalitsuse täpsusega)

.....

KÜSIMUSED

1. Millise suurlinna(de) suunas seisab Tapa Vaksali juures olev Tapa linnale 70-ks sünnipäevaks kingitud vedur?

.....

2. Milline ese on paigaldatud Tapa Vaksali lähedal asuvasse Jaama tänava pargi keskmesse?

.....

3. Millise käe küünarnukil lebab kuju Tapa kesklinnas kirikupargi keskel monumendil?

.....

4. Mitu jooksurada on Tapa Spordikeskuses I korrusel? Mis aastal avati Tapa Spordikeskus?

.....

5. Mis värvi on Tapa Linnaraamatukogu sildi taust ja millise värviga on kirjutatud asutuse nimi?

.....

6. Mitu mürsku seisab muuseumi hoovis püsti?

.....

7. Mitu trenaažööri on Tapa Linnastaadionil? Milline neist sulle meeldis? (nimetamisel kasuta numeratsiooni Spordi tn poolelt loendades)

.....

8. Kes tuntud Tapa linna haridus- ja kultuuritegelastest elas selles majas?

.....

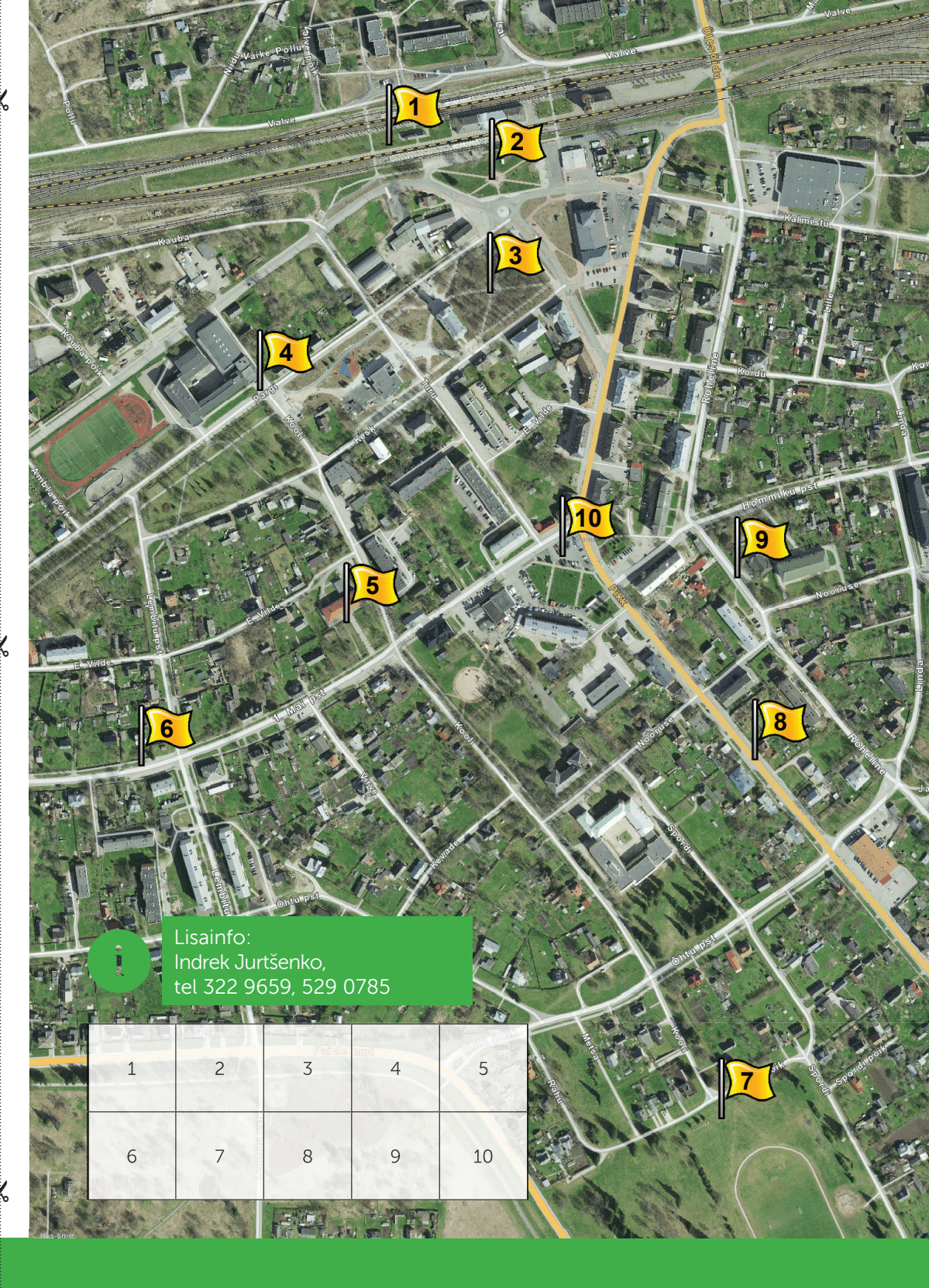
9. Mitu ja mis asutused asuvad Tapa linnas aadressil Roheline 19?

.....

10. Mitu lipuvarrast on paigutatud Tapa linna keskväljakule?

.....





Lisainfo:
 Indrek Jurtšenko,
 tel 322 9659, 529 0785

1	2	3	4	5
6	7	8	9	10

Tapa vald / Tamsalu rada



VASTAJA INFO

Osaleja nimi

Kontakttelefon

.....

Elukoht (omavalitsuse täpsusega)

.....

KÜSIMUSED

1. Kellele pühendatud pingid on Spordikompleksi ees?

.....

2. Mitme veatu viskega (pariga) on võimalik läbida Tamsalu discgolfväljakul 1. rada?

.....

3. Mitu korstnat arvuliselt ja mis materjalist on Tamsalu linna katlamaja?

.....

4. Mis materjalist on suures osas tehtud kahte koolimaja ühendav aatrium?

.....

5. Mitmendat Tamsalu esmamainimise aastapäeva kannab kultuurimaja ette püstitatud mälestuskivi?

.....

6. Mitu lipumasti seisab Tamsalu teeninduspunkti ees püsti?

.....

7. Mida kujutasid pildil 4A poisid?

.....

8. Mis on kiriku torni tipus?

.....

9. Mitu kilomeetrit on Tibutare tammikuni?

.....

10. Mille sarnane on Alasi tänaval asuv postkast?

.....





Lisainfo:
 Indrek Jurtšenko,
 tel 322 9659, 529 0785

1	2	3	4	5
6	7	8	9	10

Vinni vald / Pajusti rada



ÜLDINFO

Küsimuste ja vastuste kaardi saab kätte Vinni Spordikompleksi administraatori letist spordikeskuse fuajees E-P kell 6.00-21.00.



VASTAJA INFO

Osaleja nimi

Kontakttelefon

.....

.....

Elukoht (omavalitsuse täpsusega)

.....

KÜSIMUSED

1. Mis värvi on Vinni vallamaja juures asuva mälestusmärgi-aurumasina rattad?

.....

2. Kelle ausammas asub Pajusti klubi ees?

.....

3. Nimeta vähemalt neli kirjanikku, kellele nimetahvlid on kinnitatud tammedele nn. kirjanike pargis?

.....

4. Mitu bensiinivõtukohta on Pajusti bensiinijaamas?

.....

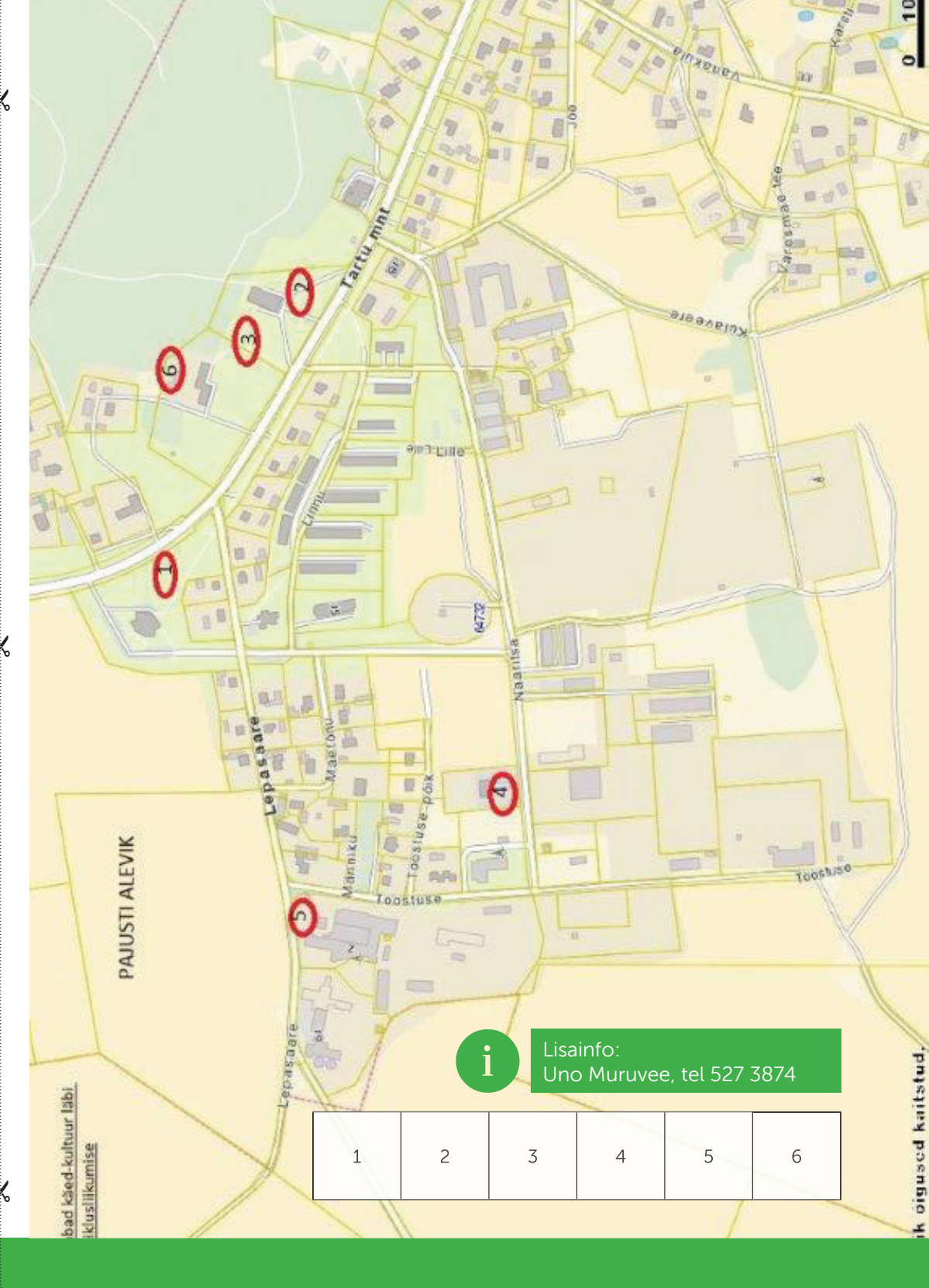
5. Mis on selle firma nimi, mis asub punktis nr5 (nimesilt suurelt värava kõrval)?

.....

6. Mis värvi on ukсед Pajusti Lasteaia taga asuvatel abihoonetel?

.....





PAJUSTI ALEVIK



Lisainfo:
Uno Muruvee, tel 527 3874

1	2	3	4	5	6
---	---	---	---	---	---

bad käed-kultuur läbi
kluslikumise

ik õigused kaitstud.

Vinni vald / Vinni-Pajusti rada



ÜLDINFO

Küsimuste ja vastuste kaardi saab kätte Vinni Spordikompleksi administraatori letist spordikeskuse fuajees E-P kell 6.00-21.00.



VASTAJA INFO

Osaleja nimi

Kontakttelefon

.....

.....

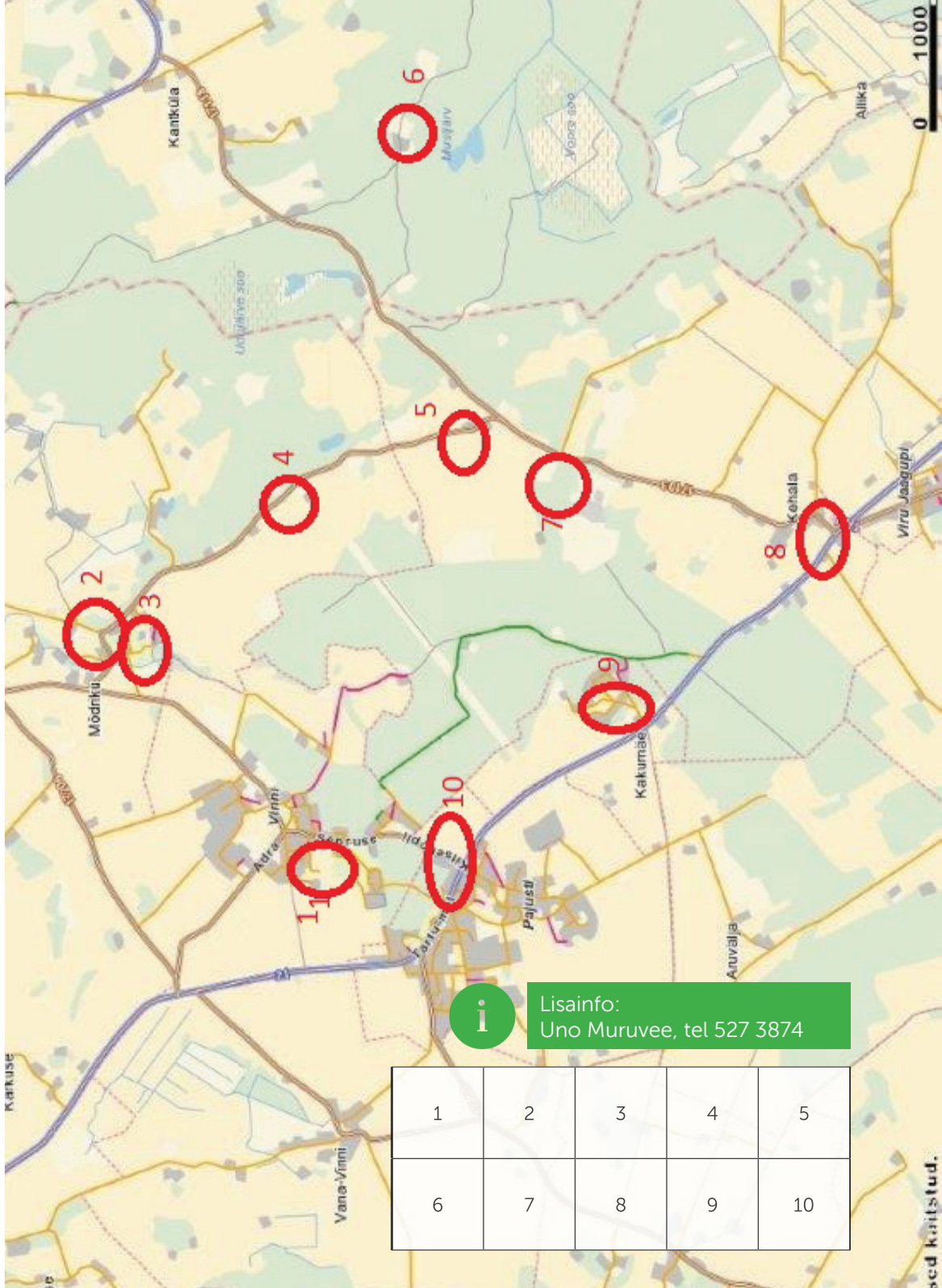
Elukoht (omavalitsuse täpsusega)

.....

KÜSIMUSED

1. Kelle nime kannab maadlusaal Vinni Spordikompleksis ja kuidas on selle saali nimi (Tahvel vaskul välisukse kõrval)?
2. Kas Mõdriku mõisahoone pargis on paigaldatud mehe või naise skulptuur?
3. Kas Põhjasõja võidule pühendatud „Täkusamba“ otsas Mõdrikul on ratsanik, muna või rist?
4. Kas sellest karjäärist teel paremal on kaevandatud kunagi kruusa, savi või paasi?
5. Siin Saueaugu külas sündis Ferdinand Veike. Kes oli nukunäitleja „Buratino“ ja nukuteatri rajaja Eestis?
6. Valgustuse ja aiaga piiratud väljak on rajatud Mustjärvele kõlakoja vastu üle tee! Kas vasikatele, hobustele või hirvedele?
7. Kehala karjääri on rajatud Eesti suurim rallirada „Kehala Ring“. Mis on kirjutatud karjääri ees tõkkepuu küljes olevale sildile?
8. Kas selles punktis Kehalas asub traktorite, sõiduautode või mootoraste remondikoda?
9. Mitu kivist „kakku“ on pandud Kakumäe küla sissesõidu sildi alla kivile? Lind on nimelt küla sümboliks.
10. Vinni Spordikompleksi reklaamplakat asub Tartu maantee ja Kitsekopli tee nurgal Pajustis, mis viib Vinni alevikku? Mis värvi on plakat ja millistel kellaegadel pakutakse võimalusi sportimiseks?





Lisainfo:
Uno Muruvee, tel 527 3874

1	2	3	4	5
6	7	8	9	10

Viru-Nigula vald / Kunda rada



ÜLDINFO

Küsimuste vastuste vihikud saab kätte ja hiljem tagastada:

- Kunda Spordikeskuses, Kasemäe 19, Kunda, E-R 7.30-22.00, L-P 11.00-21.00. Materjalid asuvad administraatori letis spordikeskuse fuajees.
- Toidukaupluses „Meie toidukauplus“, Kunda tee 4, Viru-Nigula, E-P 10.00-18.00



VASTAJA INFO

Osaleja nimi

Kontakttelefon

.....

.....

Elukoht (omavalitsuse täpsusega)

.....

KÜSIMUSED

1. Kunda tsemendimuseumi põhjakül

Muuseum on rajatud endisesse tehase kontorisse 1967. aastal. Hoone on ehitatud 1898. aastal. Mis toruga on tegemist muuseumi taga? (Mergli purustamise veski, klinkri jahvatamise veski, pöördahi)

2. Hüdrolektriijaama tammi piirdemüüri ots vasakul kaldal

Elektriijaam on Baltikumi esimene. 1944 lasti ehitus sakslaste poolt õhku. Hüdrolektriijaam rekonstrueeriti 1959. aastal, misjärel töötas 1971. aastani. Jaam on ka praegu töös. 7. augustil 2016 püüdsid vandaalid tühjaks lasta tammi taga olevat paisjärve, avades osaliselt tammi põhjalugi. Mis aastal ehitati hüdrolektriijaam? (1893, 1898, 1899)

3. Kunda kabeli mälestuskivi

Kunda kabel ehitati endise tsemendikuuri hoonesse 1904. aastal. See sai tabamuse 23. dets. 1918. aastal Vabadussõja aegse dessandi käigus Kundasse. Mites dessant see oli Vabadussõja ajaloos? (Esimene, teine, kolmas)

4. Kunda kirik

Hea akustika ja kitsa torniga kivist kirik, mille sisseõnnistamine toimus 1928. aastal. See on ainuke eripärase ehitusliku lahendusega kirik Eestis. Kunda kirikus pole kirikukell mahtunud kellatorni, vaid on toodud kandetala abil katuse kohale kellatorni kõrvale. Millise ehitusliku eripäraga on veel Kunda kiriku puhul tegu? Kas kiriku altar asub läänes, põhjas või lõunas?



5. Vabrikusauna hoone

Sauna hoone oli II tehase aegne. I tehase ajal oli saun otse tänase silla kõrval jõe kaldal. (Selle varemete juurde viib betoontrepp). II tehase saunas oli kaks osakonda, üks ametnikele ja teine töölistele. Hoone keskel oli pesumaja. Mis puul saunamaja ees on moodustunud omapärane oksaring? (Saar, vaher, pärn)

6. Kunda Vabrikukool

Kool asutati 1895. aastal. Esialgu töötas üks klass kolme jaoga. Alates 1906 aastast kaks klassi nelja jaoga ja 1917 ühendati saksa kooliga ning moodustati Kunda Tsemendivabriku 6-klassiline kool. Mis aastani töötas Vabrikukool? Kas 1940, 1934 või 1930? Loe objekti tutvustavat infotahvlit!

7. Kunda vesiveski sissevoolukanal

See veski on Kunda mõisas juba teine vesiveski, kuna esimesest on järel vaid üks müürikatke (veskisillast mööda jõe kallast ca 100m allavoolu paremal kaldal vana jõelooke kohal). Selle veski ehitas mõis 1858. aastal ja selle esialgne rentnik, hiljem omanik oli Aleksander Grimm. Tema poeg Rudolf Grimm eestindas nime Taardeks ja oli veski viimane omanik. Siin tehti 6. sorti jahu, rajati lisaettevõtteid – kohvivabrik, elektrijõujaam, saekaater. 1920ndatel hakati tegema vilja-, siguri- ja oakohvi. Perekond küüditati Siberisse. Mis aastal ehitas Aleksander Grimm veskile juurde idapoolse osa? Kas 1930, 1934 või 1936? Otsi aastaarvu hoone seinalt!

8. Kunda mõisa viinavabriku lääneots

Viinavabriku põhjaküljel asub kivist generaatorihoone ja selle kõrval pika laohoone vundament. Alloleval fotol on jäädvustatud rahvaülikooliaegse pargi motiiv jõe äärde suunduva kunstkarestikuga. Praegu kasvab selle kivikuhjatise otsas üks puu, mille tüvesse on löödud suur sepanael. Puul on ümber ka klint. Võid uudistada selle juures vana kunstkarestikku ja arvata, mis puuga on tegemist. Kas saar, vaher või jalakas?

9. Kunda mõisa peahoone sambad

Kunda mõisnik Girard de Soucanton on olnud Tsemenditootmise algataja tänapäeva Kunda linnas. Mõisnik pidi andma hoone ära Eesti riigile, kes siia 1925. aastal asutas Virumaa Rahvaülikooli. Mis aastal põles Kunda mõisahoone? 1940, 1943 või 1945?

10. John Carl de Soucantoni hauaplats

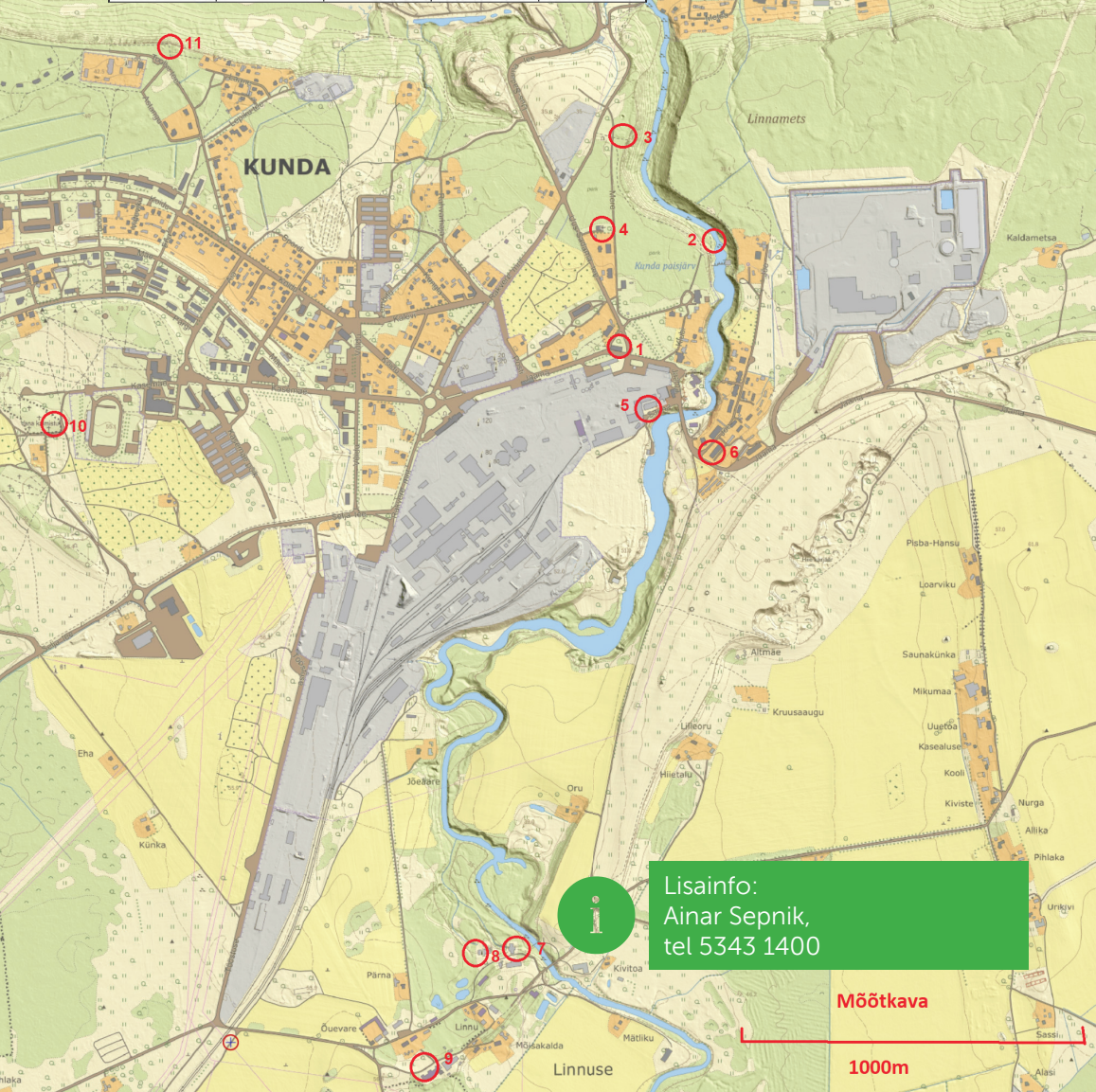
John Carl de Soucantoni surm langes kokku Kunda laiarööpmelise raudtee avamisega 1896. aastal. Kas a) Soucanton ei soovinud hakata vabriku toodangut raudtee kaudu turustama või b) ta kukkus rongist välja ja sai põrutada?

11. Kronkskallas

Kronkskalda parklas on infotahvel Toolse looduskaitseala kohta. Leia tahvli sisuline viga ja kirjelda lühidalt, milles see seisneb? Vihje: tegu on pildi allkirjaga

Viru-Nigula vald / Kunda rada

1	2	3	4	5	6
7	8	9	10	11	



Lisainfo:
Ainar Sepnik,
tel 5343 1400

Mõõtkava

1000m

Viru-Nigula vald / Viru-Nigula rada

ÜLDINFO

Küsimuste vastuste vihikud saab kätte ja hiljem tagastada:

- Kunda Spordikeskuses, Kasemäe 19, Kunda, E-R 7.30-22.00, L-P 11.00-21.00. Materjalid asuvad administraatori letis spordikeskuse fuajees.
- Toidukaupluses „Meie toidukauplus“, Kunda tee 4, Viru-Nigula, E-P 10.00-18.00



VASTAJA INFO

Osaleja nimi

Kontakttelefon

.....

Elukoht (omavalitsuse täpsusega)

.....

KÜSIMUSED

1. Viru-Nigula Koduloomuuseum

Selles majas on elanud Viru-Nigula koguduse pastorid alates Otto Wilhelm Masingu ajast 1795. aastal. Pärast teda on siin olnud kodu Gustav Hasselblati perekonnal, Fromhold Hunniusel, Max Krausel, Aleksander Alveril ja lühikest aega ka Johannes Paesalul. Hoones on olnud peale pastoraadi likvideerimist kohalik haigla ja pärast selle likvideerimist Vasta Kooli internaat. Alates 1986. aastast on hoones asunud kohalik koduloomuuseum. Üks puu pastoraadi taga (tüve ümbermõõt 5 m) võiks mäletada esimest selle maja elanikku. Mis puu on muuseumi taga, ümbermõõt rinna kõrguselt?

2. Vabadussõja ausammas

Avamine 12. juuli 1936. Eemaldamine, osaline lõhkumine september 1940. Taasavamine 9. august 1942. Lõplik lõhkumine sügis 1944. Kolmandat korda avamine 22. juuni 1990. Viimase lõhkumise käigus 1944 aastal jäi ausambast alles vaid üks soklikivi, mis asub sambast ca 50 m kirde suunas Mis kujuga ja värviga on endine ausamba soklikivi? (Must, helehall, pruun, ebasümmeetriline, kuup, kolmnurk)

3. Kongla Anne mälestuskivi

Mälestuskivi on püstitatud 1990. aastal 20. mail 350 aasta eest tuleriidal põletatud naise mälestuseks, keda süüdistati nõidumises. Kivi püstitamise algatajateks olnud maausuliste valikul on kivi sümboolselt purjepaati meenutava kujuga.

Piltlikult võiks see purjetada mööda allmaailma jõe loodekaares asuvasse surnute riiki. Mälestussamba avamisel raius Vigala Sass sellele sümbolse kujundi. Tema kujund koosneb kolmest osast: kaks poolkera ja rist. Mida sümboliseerivad Vigala Sassi graveeritud kujundid Kongla Anne mälestuskivil? (Päike, kuu, taevas, õnn, maa, saatus, inimene, isa, ema, laps)

4. Gustav Lokotari mälestuskivi

Lääne-Virumaal on püstitatud kolmele sportlasele mälestussammas. Kaks neist olid raskejõustiklased: G. Lurich Väike-Maarjas ja G. Boesberg Palmes. Kolmas mees Gustav Lokotar oli laskesportlane. Ta oli pärit Viru-Nigula (e. Kalvi) vallast Koila külast. Eesti laskespordi kuldaegadel 1930-ndatel tuli ta 12 korral maailma-meistriks, püstitas 7 maailmarekordit, aitas võita Eestile maailmakuulsale Argentiina karika (laskespordi ihaldatuim rändauhind). Mis liiki pöösastest on hekk Gustav Lokotari mälestuskivi põhjaküljel oleva haljasala servas? (tuhkpuu, pukspuu, viirpuu)

5. Maarja kabel

Kabel on teadaolevalt vanim kivist sakraalehitis Virumaal. Arvatakse, et kabel rajati tähistamiseks venelaste üle saavutatud võitu 1268 Liivi ordu ja venelaste vahel toimunud lahingus. Pärast luterlikku reformatsiooni jäi kabel hoolduseta ja muutus rahvaliku ebausku keskuseks, mis 17. saj keskel põhjustas osalise lammutamise ja järgneva lagunemise. Kabelist on säilinud otsaviil. Kabel on haruldane, kuna erineb samal ajal püstitatud hoonetest idast tulnud ehituslaadi poolest. Maarja kabeli juurde on püstitatud mälestuskivi Eesti Kristliku Liidu asutamise auks 1988. aastal. Alates 2000. aastast taastati katoliiklik palverändude traditsioon Maarja kabeli juurde. Missuguse joone tõttu eristub kabeli põhiplaan teistest sakraalehitistest? (Vördhaarne rist, riskülik, põhja-lõunasuunaline pikitelg, altari koht idas)

6. Pada oru määnd

Määnd on looduskaitse all. 2001. aasta andmetel on tema kõrgus 10,4 m ja ümbermõõt 372 cm 1,3 m kõrguselt. Mändi võiks kutsuda pigem Vanaveski männiks, et ei tekiks segadust teise (Padaoru) suure kaheharulise männiga. Mäenõlval on näha kunagised motokrossi tulemusel tekkinud sügavad jäljed. Need on mälestus kuulsale motosportlase Mati Napa auks kuni 1989. aastani Viru-Nigula kolhoosi poolt korraldatud võistlustest. Kes on maalinud selle pildi männist 1965. aastal? (Soans, Sagrits, Okas)

7. Pada suure linnamäe väravakäik

Pada suur linnamägi on olnud kaitserajatiseks muistse Pada muinasasula elanikele. Arheoloogid T. Tamla juhendamisel on taastanud osakese linnuse müüri siseseinast ja värava käigu. Väravakäigus on puitpostid, mille vahele kinnitati langevärav. NB! Värava ühe külje postid on nihutatud linnuse siseõue poole, et värav oleks ründajate suunas kaldu ja seda oleks raskem purustada. Kummad väravapostid asetsevad linnuse siseõuele lähemal, kas ründajate suhtes vasakpoolsed või parempoolsed?

8. Linnamäe juga

Linnamäe juga on Pada jõe paremal lisaharul paiknev lubjakivi astang kõrgusega 2,5 m. Joa astangu taganemisest on järele jäänud ca 100m pikkune kuni 40m laiune kanjon sügavusega 9m. Oja paremal kaldal on infotahvel, mis kirjeldab joa geoloogilist arengut ja näitab tema veerohkust eri aastaegadel. Uuri tahvlit ja leia vastus küsimusele. Mis lademesse kuuluvad raudoiide sisaldavad Pada kihistiku savikad lubjakivid, mis paljanduvad joa astangul? (Volhovi, Kunda, Aseri)

9. Padaoru määnd

Ilus kaheharuline puu. Kõrgus 12m, võra laius 20m, jämedama tüve ümbermõõt rinnakõrguselt 3,2m, maapinnalt 5,5m. Vanuseks ca 300 aastat. Legendi järgi oli Peeter suur tulnud Narva poolt mäest alla ja orus oli tema töld katki läinud. Hakati siis parandama. Peeter aga samal ajal puhanud männi all, võtnud einet talle kaetud laua taga ja jäänud sinna magama. Keegi ei julgenud teda äratada. Sellest ajast on rahvas seda määndi ikka Peetri männiks kutsunud. Levib ka Karli legend. Selle järgi olla Karli samuti Padaorus tiisel katki läinud ja ta oli selle siin männi juures maasse vajutanud. Kumb haru on männil jämedam, kas ida- või läänepoolne?

10. Pada väikese linnamäe taastatud välismüür

Väikese linnamäe arheoloogilistel väljakaevamistel on taastatud kuivmüürina ringvalli välismüüri osa. Kaevamistel tehti kindlaks, et ringmüüri ette oli kunagi kaevatud ka 2m laiune kaitsekraav. Missugused puud piiravad linnamäe välismüürist lõunas asuva kinnistu põlluserva? (tammed, männid, kuused)

11. Pada vesiveski vare

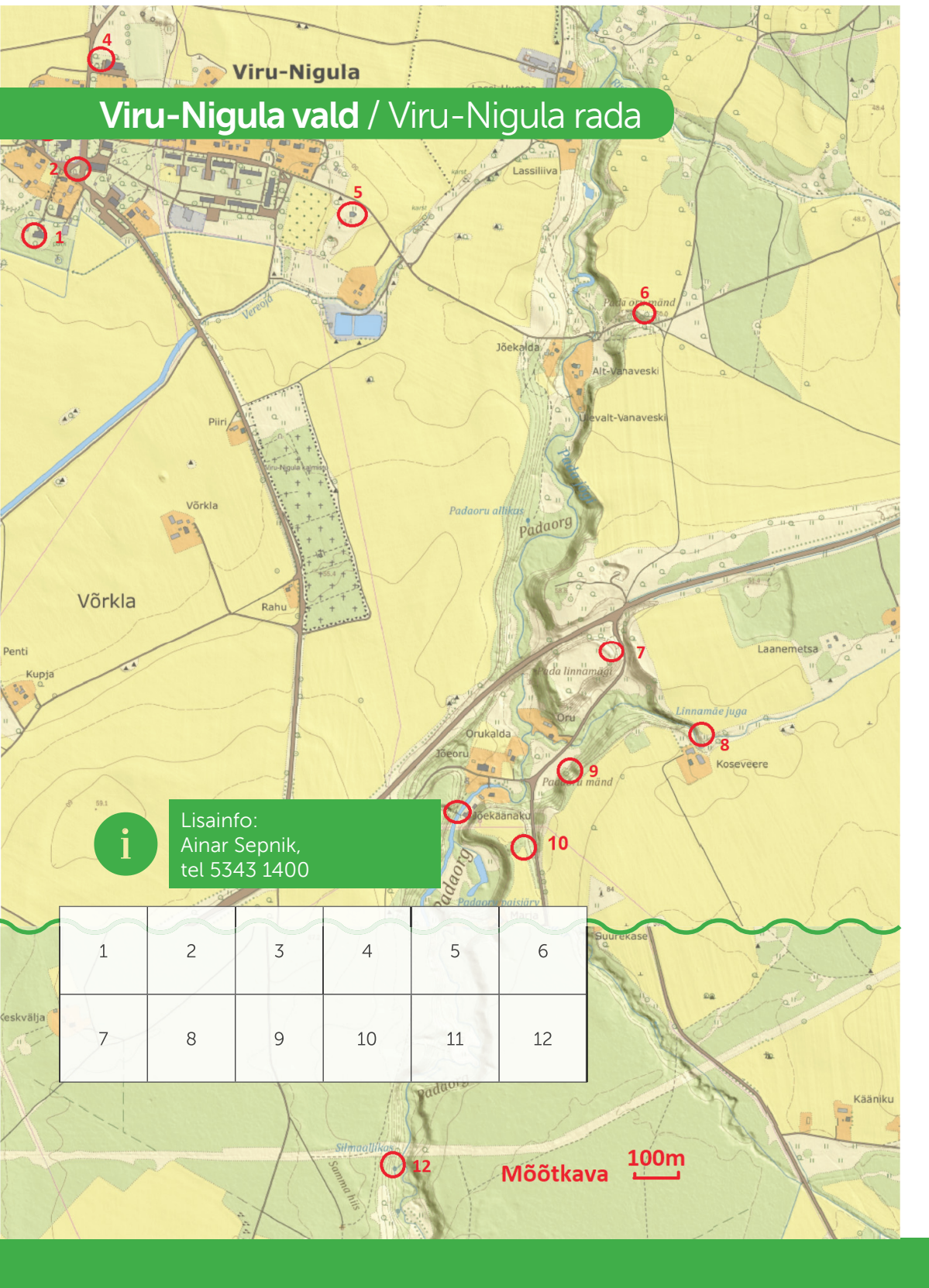
Pada vesiveski oli töökorras veel uue Eesti Vabariigi algusaastatel. Seoses erastamise probleemide ja muinsuskaitse piirangutega ei leidnud pärijad võimalust hoonet hävingust päästa. Kunagine Pada mõisa looduspargi ala ulatus välja kuni selle veskini. Vasakkaldal on sellest ajast säilinud iidseid tammesid, lehiseid, jt põlispuid. Mis aastanumber on jäädvustatud vasakkaldal oleva silla posti betoonile? (1964, 1973, 1978)

12. Samma hiis

Samma hiis rajati 1989. aasta 20. mail. Siin on olnud alati ka külakiige, kuid viimane kiik lagunes 2017. aastal. Hiies on kokku kolm väravat. Nende ees on lokulauad, millel ohutusmärkidena iidseid sümbolid. Mis tähis on süvistatud hiie piknikuplatsilt pühale alale suunava värava lokulauale? (kaheksakannaga, kaev, viisnurk)

Viru-Nigula

Viru-Nigula vald / Viru-Nigula rada



i

Lisainfo:
Ainar Sepnik,
tel 5343 1400

1	2	3	4	5	6
7	8	9	10	11	12

Möötkava 100m



iniku

